


Демонстрационный вариант  
контрольно-измерительных материалов  
для проведения промежуточной аттестации  
по географии в 7 классе

### 1. Задание 1.1

На карте мира изображён маршрут экспедиции одного из путешественников, портреты которых представлены ниже. Рассмотрите карту и портреты путешественников и выполните задания. Маршрут экспедиции кого из путешественников изображён на карте?



Джеймс Кук

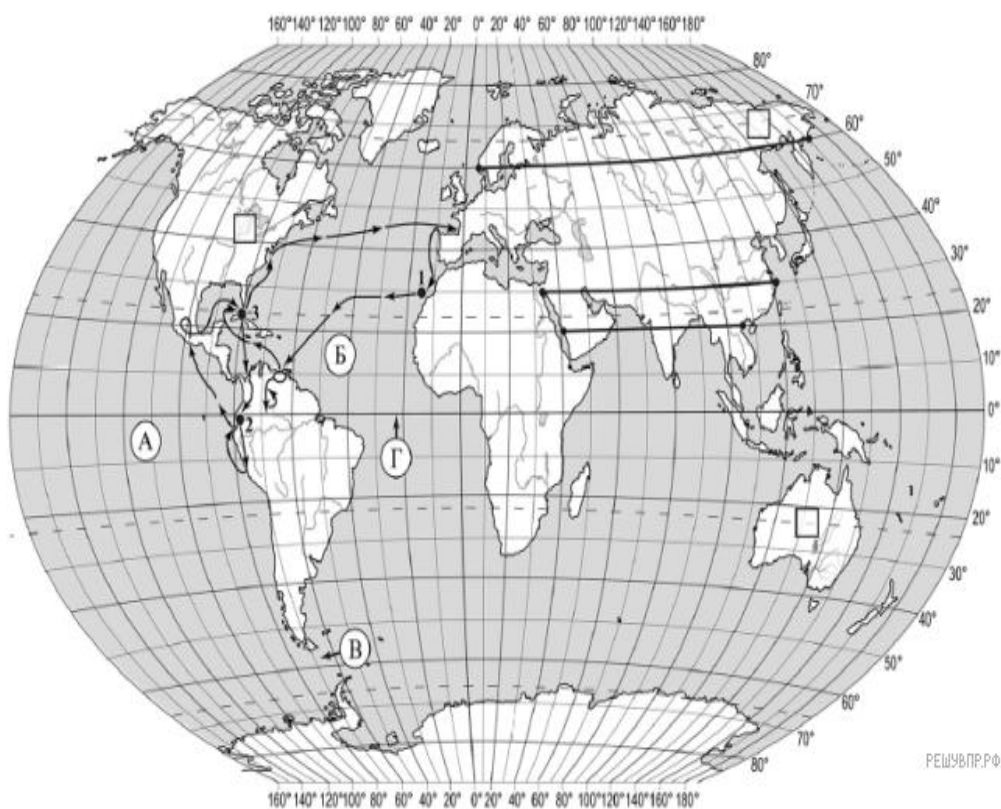


Александр Гумбольдт



П.П. Семёнов-Тян-Шанский

Подпишите на карте название материка, к берегам которого отправилась экспедиция.



### 2. Задание 2.1

По линии маршрута экспедиции отмечены точки, расположенные на территории крупных географических объектов. Определите и запишите в ответе географические координаты точки 2.

На территории какого географического объекта расположена точка 2? Запишите в ответе его название.

### 3. Задание 3.1

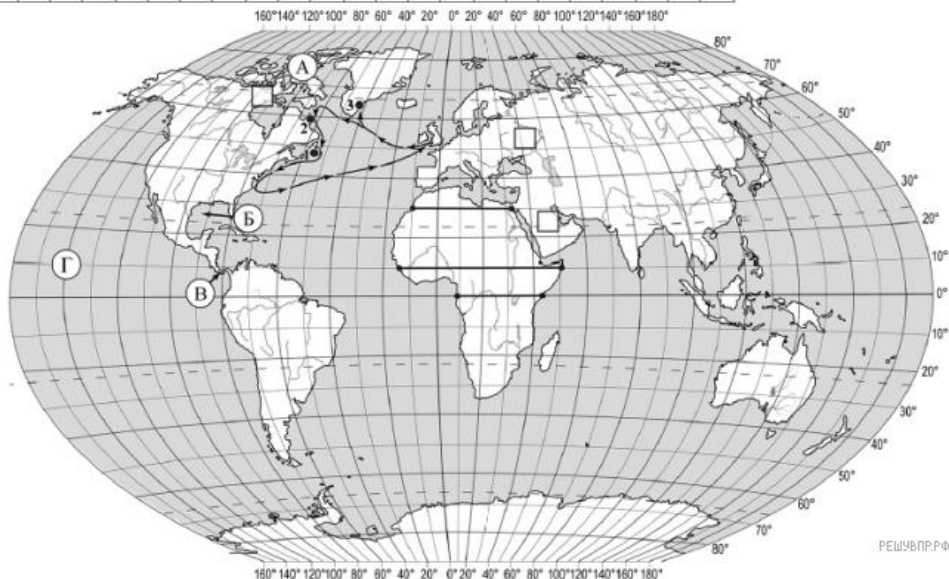
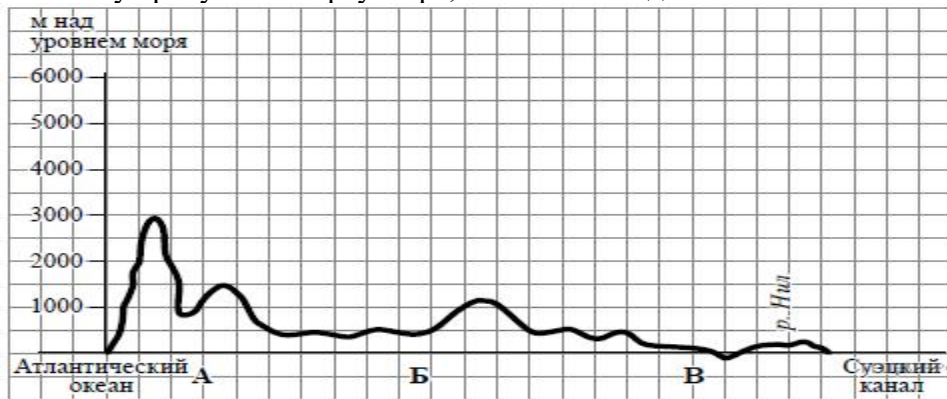
По какому из отрезков, проведённых на карте вдоль трёх параллелей, пересекающих материк Африка, построен профиль рельефа, представленный на рисунке? Укажите в ответе значение параллели.

Определите по карте протяжённость материка Африка в градусах по указанной Вами параллели.

Рассчитайте протяжённость материка Африка по указанной Вами параллели в километрах с помощью приведённой ниже таблицы. Для расчёта воспользуйтесь калькулятором.

Широта	0°	10°	20°	30°	40°	50°	60°	70°	80°	90°
Длина дуги параллели в 1°, км	111,3	109,6	104,6	96,5	85,4	71,7	55,8	38,2	19,4	0

На уроке географии Фёдор построил профиль рельефа Африки, представленный на рисунке. Используя рисунок и карту мира, выполните задания.



#### 4. Задание 4.1

На рисунке представлены значки, которыми обозначаются месторождения полезных ископаемых на географических картах.



Внесите в таблицу значки, обозначающие месторождения полезных ископаемых, которые добывают на территории, обозначенной на профиле буквой А.

Марганцевые руды	Железные руды	Фосфориты	Полиметаллические руды

#### 5. Задание 5.1

Установите соответствие между материками и их географическими особенностями.

Материки:

А) Евразия

Б) Северная Америка

Географические особенности:

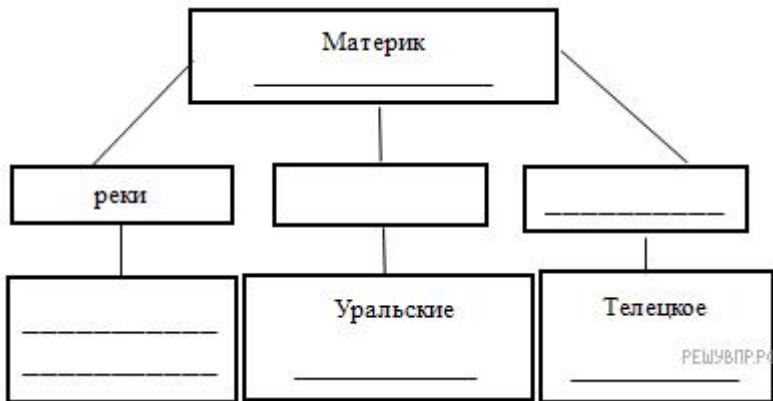
- 1) Этот материк занимает 3-е место по площади территории.
- 2) Большую часть территории материка занимают две страны.
- 3) Материк омывается водами всех океанов Земли.
- 4) На территории материка расположена самая большая по территории страна мира.
- 5) На этом материке расположена самая высокая вершина мира.

б) На материке растут самые высокие в мире деревья.

**6. Задание 6.1**

В приведённом ниже списке перечислены крупные географические объекты. Выберите из представленного ниже списка названия географических объектов, расположенных на территории одного из этих материков, и заполните схему. Впишите в схему название материка, типы и названия выбранных Вами географических объектов.

*Конго, Обь, Эри, Виктория, Тигр, Муррей, Анды, Кавказ, Лобнор, Замбези, Дарлинг, Аппалачи, Косцюшко.*



**7. Задание 7.1**

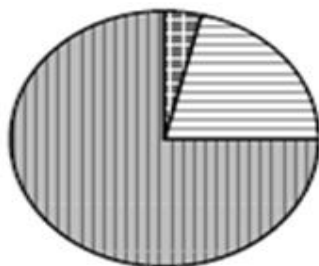
Расположите страны в порядке **увеличения** численности населения, начиная со страны с самой маленькой численностью. Запишите в ответе последовательность порядковых номеров этих стран. Используя представленную ниже таблицу и политическую карту мира выполните задания.

**Численность и состав населения, 2017 г.**

№	Страна	Численность занятого населения, млн человек	Доля занятого населения, %		
			в сельском хозяйстве	в промышленности	в сфере услуг
1	Монголия	1,3	31	19	50
2	Финляндия	2,5	4	21	75
3	Мексика	54,5	14	24	62
4	Мозамбик	13,0	74	4	22

**8. Задание 7.2**

Структуру занятости населения какой страны отражает представленная на рисунке диаграмма? Запишите в ответе название страны.



доля населения, занятого в сельском хозяйстве



доля населения, занятого в промышленности



доля населения, занятого в сфере услуг