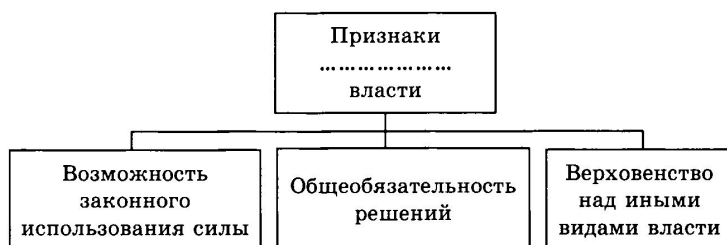


**Демонстрационный вариант
контрольно-измерительных материалов
для проведения промежуточной аттестации
по обществознанию 11 класс**

Задание 1. Запишите слово, пропущенное в таблице.

КРИТЕРИЙ СРАВНЕНИЯ	... ИЗБИРАТЕЛЬНАЯ СИСТЕМА
Деление страны на избирательные округа	Страна делится на избирательные округа
За кого происходит голосование	Избиратели голосуют за личность
Как определяется победивший	Победившим считается кандидат, набравший большинство голосов

Задание 2. Запишите слово, пропущенное в схеме.



Задание 3. Запишите словосочетание, пропущенное в таблице.

ФОРМЫ ГОСУДАРСТВА

ФОРМЫ ГОСУДАРСТВА	ХАРАКТЕРИСТИКА
Форма правления	Отображает порядок организации и деятельности высших органов государственной власти
...	Включает в себя средства и методы реализации государственной властью своих полномочий
Государственное устройство	Определяет характер и способы взаимодействия центральной власти и региональной

Задание 4. Выберите понятие, которое является обобщающим для всех остальных понятий представленного ниже ряда. Запишите это слово (словосочетание).

Налог на собственность, прямой налог, подоходный налог, налог на прибыль фирм, налог на землю.

Задание 5. Найдите понятие, которое является обобщающим для всех остальных понятий представленного ни же ряда. Запишите это слово (словосочетание).

Земля, трудовые ресурсы, фактор производства, капитал, информация.

Задание 6. Ниже приведен ряд терминов. Все они, за исключением двух, относятся к понятию «этническая общность».

- 1) народность
- 2) племя
- 3) нация
- 4) род
- 5) каста
- 6) государство

Найдите два термина, «выпадающих» из общего ряда, и запишите в ответ цифры, под которыми они указаны.

Задание 7. Ниже приведён перечень терминов. Все они, за исключением двух, относятся к понятию «социальный институт».

- 1) семья; 2) бизнес; 3) наука; 4) акция; 5) налоги; 6) право*

Найдите два термина, «выпадающих» из общего ряда, и запишите в ответ цифры, под которыми они указаны.

Задание 8. Найдите в приведенном списке операции, которые должны учитываться при подсчете ВВП, и запишите цифры, под которыми они указаны

- 1) оплата услуг салона красоты
- 2) пособие по безработице
- 3) покупка «пиратского» издания
- 4) гонорар композитора
- 5) покупка корпоративных облигаций

Задание 9. Найдите в приведенном списке последствия рыночного регулирования экономики. Запишите цифры, под которыми они указаны.

- 1) имущественное расслоение товаропроизводителей
- 2) товарный дефицит
- 3) заинтересованность в технических новинках
- 4) полная занятость трудоспособных
- 5) преодоление цикличности развития экономики

Задание 10. Найдите в приведённом ниже списке характеристики патриархальной (традиционной) семьи. Запишите цифры, под которыми они указаны.

- 1) совместное проживание нескольких поколений
- 2) принятие решений всеми членами семьи
- 3) экономическая самостоятельность женщины
- 4) организация быта как основная экономическая функция
- 5) жёсткое распределение мужских и женских обязанностей
- 6) совместная производственная деятельность

Задание 11 . Найдите в приведенном списке проявления экономической функции семьи. Запишите цифры, под которыми они указаны.

- 1) обучение детей трудовым навыкам
- 2) материальная поддержка неработающих членов семьи
- 3) семейное предпринимательство
- 4) наделение наследственным статусом
- 5) организация досуга

Задание 12. Найдите в приведенном ниже списке черты, характеризующие политические партии по составу, и запишите цифры, под которыми они указаны.

- 1) консервативная
- 2) массовая
- 3) кадровая
- 4) коммунистическая
- 5) нелегальная
- 6) социал-демократическая

Задание 13. Найдите в приведённом ниже списке функции политических партий в демократическом обществе и запишите цифры, под которыми они указаны.

- 1) разработка и принятие законов
- 2) выдвижение политических лидеров
- 3) оппонирование правительству
- 4) контроль над денежной системой
- 5) формирование правоохранительных органов
- 6) представление определённых групп общества

Задание 14. Фирма «Цветик-семицветик» согласно своему Уставу имеет основной целью деятельности оптовую продажу срезанных и горшковых цветов для получения прибыли. Капитал фирмы разделён на доли, владение которыми подтверждается ценными бумагами. Найдите в приведённом списке термины, которые могут быть использованы при характеристике данной фирмы, и запишите цифры, под которыми они указаны.

- 1) унитарное предприятие
- 2) коммерческая организация
- 3) хозяйственное товарищество

- 4) акционерное общество
- 5) благотворительный фонд
- 6) юридическое лицо

Задание 15. Юля и Слава познакомились ещё на первом курсе института, полюбили друг друга и решили пожениться. Найдите в приведённом списке обстоятельства, препятствующие вступлению в брак, и запишите цифры, под которыми они указаны.

- 1) один из вступающих в брак имеет хроническое заболевание
- 2) хотя бы один из вступающих в брак признан судом недееспособным
- 3) один из вступающих в брак не имеет российского гражданства
- 4) вступающие в брак являются близкими родственниками
- 5) лица не имеют стабильного заработка
- 6) одно из лиц уже состоит в зарегистрированном браке

Задание 16. Прочитайте приведенный ниже текст, в котором пропущен ряд слов. Выберите из предлагаемого списка слова, которые необходимо вставить на место пропусков.

«Демократия — форма политической организации государства, основанная на признании народа источником _____ (А), его права участвовать в решении государственных дел в сочетании с широким кругом прав и свобод. Важный признак демократии — гарантия соблюдения прав и свобод человека и _____ (Б). Еще одной важной чертой демократии является возможность выражения разных политических взглядов — _____ (В). Различают демократию прямую и _____ (Г). Институтом прямой (непосредственной) демократии является _____ (Д). В этом случае _____ (Е) сам, без посредников, выносит то или иное решение».

Слова в списке даны в именительном падеже. Каждое слово (словосочетание) может быть использовано только один раз. Выбирайте последовательно одно слово за другим, мысленно заполняя каждый пропуск. Обратите внимание на то, что в списке слов больше, чем вам потребуется для заполнения пропусков.

Список терминов:

- | | | |
|------------------------------|---------------------|-------------------|
| 1) политический
плюрализм | 2) представительная | 3) иностранец |
| 4) власть | 5) народ | 6) исполнительная |
| 7) референдум | 8) гражданин | 9) суверенитет |

Запишите в ответ цифры, расположив их в порядке, соответствующем буквам:

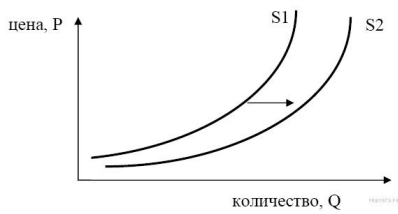
Задание 17. Государство Z объединяет несколько штатов, имеющих свои парламенты, правительства и законодательство. В Z периодически проводятся свободные выборы в парламент государства, который формирует правительство из представителей победивших политических партий. Депутаты парламента избирают президента, выполняющего представительные функции. Выберите в приведённом ниже списке характеристики формы государства Z и запишите цифры, под которыми они указаны.

- 1) президентская республика
- 2) унитарное государство
- 3) демократическое государство
- 4) парламентская республика
- 5) авторитарное правление
- 6) федеративное государство

Задание 18. Найдите в приведённом ниже списке полномочия Президента РФ, и выпишите цифры, под которыми они указаны.

- 1) выступление в качестве главы государства с ежегодным посланием к Федеральному собранию
- 2) внесение поправок в текст Конституции РФ и иные конституционные законы
- 3) отклонение (вето) на законопроекты, принятые Государственной Думой, с целью их повторного рассмотрения
- 4) роспуск Государственной думы и объявление досрочных парламентских выборов в случае несогласия президента с позицией думы по бюджетным вопросам
- 5) подписание от имени РФ международных договоров
- 6) назначение судей Конституционного суда РФ

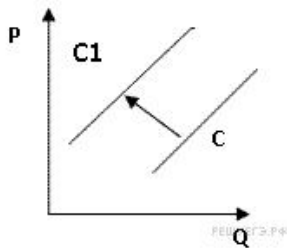
Задание 19.



На графике изображено изменение предложения роликовых коньков на потребительском рынке. Что из приведённого ниже могло вызвать сдвиг кривой предложения из положения S1 в положение S2? (на графике по вертикали — цена товара, по горизонтали — количество товара).

- 1) сокращение количества фирм, производящих роликовые коньки
- 2) внедрение новых технологий производства роликовых коньков
- 3) рост цен на комплектующие изделия для роликовых коньков
- 4) рост тарифов на электроэнергию
- 5) снижение налогов на комплектующие изделия для роликовых коньков

Задание 20.



На рисунке отражена ситуация на рынке рыбы и морепродуктов: линия предложения C переместилась в положение $C1$ (P — цена товара, Q — объем предложения товара). Это перемещение может быть связано, прежде всего, с (со)

- 1) существенным ростом доходов населения
- 2) сокращением субсидирования государством отечественных рыболовных компаний
- 3) повышением импортных пошлин на ввоз морепродуктов и рыбы
- 4) увеличением количества продавцов рыбы и морепродуктов
- 5) спуском на воду новых траулеров для рыболовного флота страны